



enC@jeja²⁰¹⁸

Exame Nacional para Certificação de
Competências de Jovens e Adultos

Ensino Médio

Prova IV - Tarde


Ciências Humanas e suas Tecnologias

Leia com atenção as instruções abaixo:

1. Ao receber este Caderno de Prova, confira se contém trinta questões, corretamente ordenadas de 31 a 60. Caso o caderno esteja incompleto ou tenha qualquer defeito, solicite imediatamente ao Aplicador que tome as providências cabíveis.
2. Leia atentamente cada questão antes de decidir qual opção assinalar. Lembre-se: cada questão tem uma única opção correta.
3. Inicialmente, marque as suas respostas neste Caderno de Prova. Em seguida, transcreva-as para o Cartão-Resposta preenchendo completamente os círculos correspondentes. Utilize caneta esferográfica de tinta preta fabricada com material transparente. Lembre-se: o Cartão-Resposta é o único documento válido para a correção da sua prova objetiva.
4. Ao terminar a prova, chame o Aplicador e devolva-lhe este Caderno de Prova e o seu Cartão-Resposta.
5. A duração das provas, deste turno, é de cinco horas, já incluído o tempo destinado ao preenchimento do Cartão-Resposta.



QUESTÃO 31



Desde os primeiros dias da República, os autores de livros didáticos para os cursos primário e secundário, obedecendo a critérios definidos pelas autoridades de governo na área da educação, passaram a estampar o retrato de D. Pedro II com as longas barbas e o aspecto cansado dos seus últimos anos de vida para associar à Monarquia a imagem de velhice e coisa antiga.

SILVA, P. N. N. **Monarquia**: verdades e mentiras. São Paulo: GRD, 1994 (adaptado).

De acordo com o texto, o uso que se fez da imagem de D. Pedro II tinha o objetivo de

- Ⓐ valorizar uma tradição nacional.
- Ⓑ denunciar um costume aristocrático.
- Ⓒ promover um estilo artístico.
- Ⓓ desqualificar um regime político.

QUESTÃO 32

Cada vez que uma guerra ou desastre natural ameaça o patrimônio histórico e artístico de um país, agentes do Escudo Azul, órgão internacional que tem o mesmo peso que a Cruz Vermelha nas Nações Unidas, entram em ação em missões de inspeção e resgate. Foi assim com a Primavera Árabe, o *tsunami* no Japão e o terremoto no Haiti.

Disponível em: www1.folha.uol.com.br. Acesso em: 8 jul. 2015 (adaptado).

As ações citadas no texto objetivam

- Ⓐ calcular o valor dos acervos.
- Ⓑ redistribuir a coleção dos museus.
- Ⓒ conservar a memória das sociedades.
- Ⓓ questionar a autenticidade das relíquias.

QUESTÃO 33

A compatibilidade da liberdade com a igualdade não é evidente por si, pois um dos dilemas da nossa época é o de que as sociedades que se aventuraram na criação de uma sociedade igualitária terminaram por abolir a liberdade, enquanto as sociedades livres repousam frequentemente em grandes desigualdades sociais.

ROSENFELD, D. L. **O que é democracia**. São Paulo: Brasiliense, 1994 (adaptado).

A polêmica citada no texto encontra-se presente na discussão sobre as vantagens e desvantagens de quais sistemas econômico-políticos?

- Ⓐ Anarquia *versus* tirania.
- Ⓑ Democracia *versus* monarquia.
- Ⓒ Comunismo *versus* capitalismo.
- Ⓓ Liberalismo *versus* neoliberalismo.

QUESTÃO 34

Em várias partes do Brasil, as danças folclóricas sobrevivem e são fundamentais sociologicamente. As danças folclóricas e regionais, que geralmente aconteciam nos fins de colheitas, são bons elementos para se ensinar os costumes, histórias orais e mesmo sobre épocas de plantio de algumas regiões.

GORZONI, P. Um povo que dança! **Geografia**, n. 33, out. 2010 (adaptado).

O folclore é a expressão da identidade de um povo, de uma região, de um país, na medida em que

- Ⓐ destaca a individualidade dos membros do grupo e de seu espaço.
- Ⓑ privilegia grupos sociais com origens étnicas ou raciais comuns.
- Ⓒ expõe as diferenças entre as diversas classes sociais de uma mesma região.
- Ⓓ simboliza as ligações dos indivíduos com o meio cultural em que vivem.



QUESTÃO 35

TEXTO I

Meu chapéu do lado
Tamanco arrastando
Lenço no pescoço
Navalha no bolso
Eu passo gingando
Provoco e desafio
Eu tenho orgulho
Em ser tão vadio
Sei que eles falam
Deste meu proceder
Eu vejo quem trabalha
Andar no miserê.

BATISTA, W. **Lenço no pescoço**. São Paulo: RCA Victor, 1933 (fragmento).

TEXTO II

Deixa de arrastar o teu tamanco
Pois tamanco nunca foi sandália
E tira do pescoço o lenço branco
Compra sapato e gravata
Joga fora esta navalha
Que te atrapalha
Malandro é palavra derrotista
Que só serve pra tirar
Todo o valor do sambista
Proponho ao povo civilizado
Não te chamar de malandro
E sim de rapaz folgado.

ROSA, N. **Rapaz folgado**. São Paulo: RCA Victor, 1938 (fragmento).

Ao tratar da figura do malandro, as letras das canções apresentam uma divergência baseada na

- Ⓐ aceitação social dos artistas populares.
- Ⓑ condição econômica das classes trabalhadoras.
- Ⓒ participação política de indivíduos transgressores.
- Ⓓ opção religiosa da população afrodescendente.



QUESTÃO 36

A Constituição Federal de 1988 estabeleceu que o patrimônio cultural brasileiro é composto também de bens de natureza imaterial, incluídos aí os modos de criar, fazer e viver dos grupos formadores da sociedade brasileira. Os bens culturais de natureza imaterial dizem respeito àquelas práticas e domínios da vida social que se manifestam em saberes e modos de fazer; celebrações; formas de expressão cênicas, plásticas, musicais ou lúdicas; e nos lugares, tais como mercados, feiras e santuários que abrigam práticas culturais coletivas.

IPHAN. O que é patrimônio imaterial? Disponível em: www.iphan.gov.br. Acesso em: 21 jul. 2014 (adaptado).

Qual dos bens apresentados representa o tipo de bem cultural citado no texto?

- A** Missões Jesuíticas Guarani.
- B** Ofício das Baianas de Acarajé.
- C** Cidade Histórica de Ouro Preto.
- D** Parque Nacional da Serra da Capivara.

QUESTÃO 37

Os anos que vão do lançamento das bombas atômicas até o fim da União Soviética não formam um período homogêneo na história do mundo. Apesar disso, a história desse período foi reunida sob um padrão único pela situação internacional peculiar que o dominou até a queda da URSS: o constante confronto das duas superpotências que emergiram da Segunda Guerra Mundial na chamada “Guerra Fria”.

HOBBSAWM, E. **A era dos extremos**. O breve século XX, 1914-1991. São Paulo: Cia. das Letras, 1995 (adaptado).

O autor reconhece que a característica fundamental do período mencionado é a

- A** fragilidade dos países socialistas.
- B** bipolaridade da economia mundial.
- C** regionalização dos conflitos militares.
- D** criação da Organização das Nações Unidas.

QUESTÃO 38

A Marcha da família com Deus pela liberdade, em março de 1964, consistiu numa série de manifestações, organizadas principalmente por setores do clero e por entidades femininas, em resposta ao comício realizado no Rio de Janeiro, em 13 de março de 1964, durante o qual João Goulart anunciou seu programa de reformas de base.

LAMARÃO, S. A conjuntura de radicalização ideológica e o golpe militar: a marcha da família com Deus pela liberdade. Disponível em: <http://cpdoc.fgv.br>. Acesso em: 26 ago. 2014 (adaptado).

O evento descrito foi uma reação de parcela da sociedade que tinha como objetivo

- A** conter os grupos guerrilheiros.
- B** criticar as propostas dos liberais.
- C** apoiar a deposição do presidente.
- D** diminuir as desigualdades sociais.



QUESTÃO 39

A possibilidade de flexibilização das regras do Mercosul, com a mudança para um nível menor de integração, foi o principal tema discutido durante a audiência pública realizada pela Comissão de Relações Exteriores e Defesa Nacional do Senado brasileiro. O debate sobre a função do Mercosul é antigo. Hoje, as regras do bloco preveem a aplicação de uma Tarifa Externa Comum (TEC) ao comércio com terceiros países.

Disponível em: www12.senado.gov.br. Acesso em: 30 ago. 2013 (adaptado).

Quanto à política de comércio exterior brasileiro, as regras mencionadas no texto limitavam a

- A** redução de impostos nacionais.
- B** negociação de acordos bilaterais.
- C** diversificação de produtos exportados.
- D** fiscalização de produtos agropecuários.

QUESTÃO 40



Disponível em: www.gritodosexcluidos.org. Acesso em: 30 ago. 2014 (adaptado).

Realizado anualmente, o ato apresentado no cartaz propõe uma outra forma de celebrar a Independência do Brasil, convidando a população a

- A** investigar atos de corrupção.
- B** reivindicar direitos do cidadão.
- C** acompanhar desfiles patrióticos.
- D** comemorar conquistas populares.

QUESTÃO 41

Muitos aspiram à condição de senhor de engenho, porque se trata de um título que traz consigo a possibilidade de ser servido, obedecido e respeitado.

ANTONIL, A. J. **Cultura e opulência do Brasil**. Belo Horizonte-São Paulo: Itatiaia-Edusp, 1982 (adaptado).

Quanto à organização da sociedade colonial brasileira, para ocupar a posição social descrita, era necessário

- Ⓐ exercer condição social privilegiada e ser jesuíta.
- Ⓑ realizar função eminentemente provedora e ser nobre.
- Ⓒ desenvolver atividade comercial rentável e ser mascate.
- Ⓓ conquistar situação econômica diferenciada e ser alforriado.

QUESTÃO 42

O utopista não aceita o mundo que encontra, não se satisfaz com as possibilidades atualmente existentes: sonha, antecipa, projeta, experimenta. É justamente este ato de desacordo que dá vida à utopia. Ela nasce quando na consciência surge uma ruptura entre o que é e o que deveria ser, entre o mundo que é e o mundo que pode ser pensado. Acredita que a humanidade pode recomeçar tudo desde o começo. Não se interessa pelo “um pouco melhor”, pergunta sempre pelo “bom”.

SZACHI, J. **As utopias**. Rio de Janeiro: Paz e Terra, 1972 (adaptado).

Os ideais mencionados no texto são motivados pela busca de

- Ⓐ desenvolvimento da justiça social.
- Ⓑ crescimento de caráter intelectual.
- Ⓒ enriquecimento de ordem individual.
- Ⓓ fortalecimento do potencial profissional.

QUESTÃO 43

Entre o êxodo e a perda de vidas

No decorrer dos últimos vinte anos, cerca de 2,5 milhões de afegãos perderam suas vidas em diversos conflitos. Atualmente, o Afeganistão é o país de maior êxodo do mundo e estima-se que a maior parte dos refugiados afegãos se encontre em países vizinhos, como o Irã e o Paquistão.

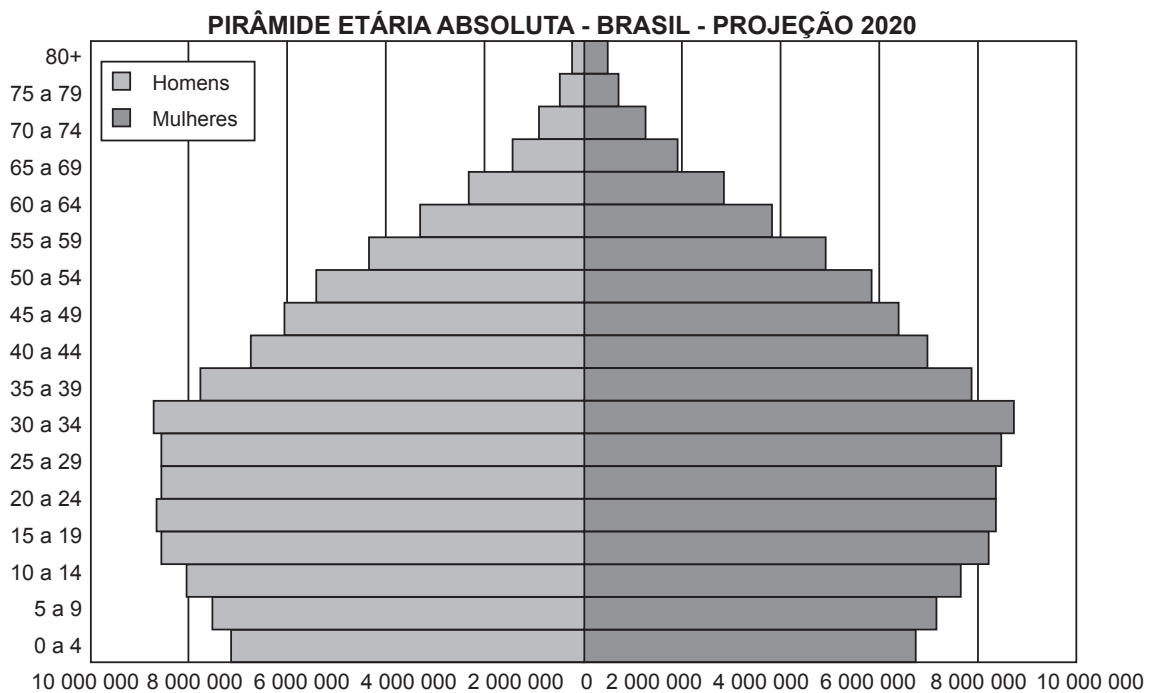
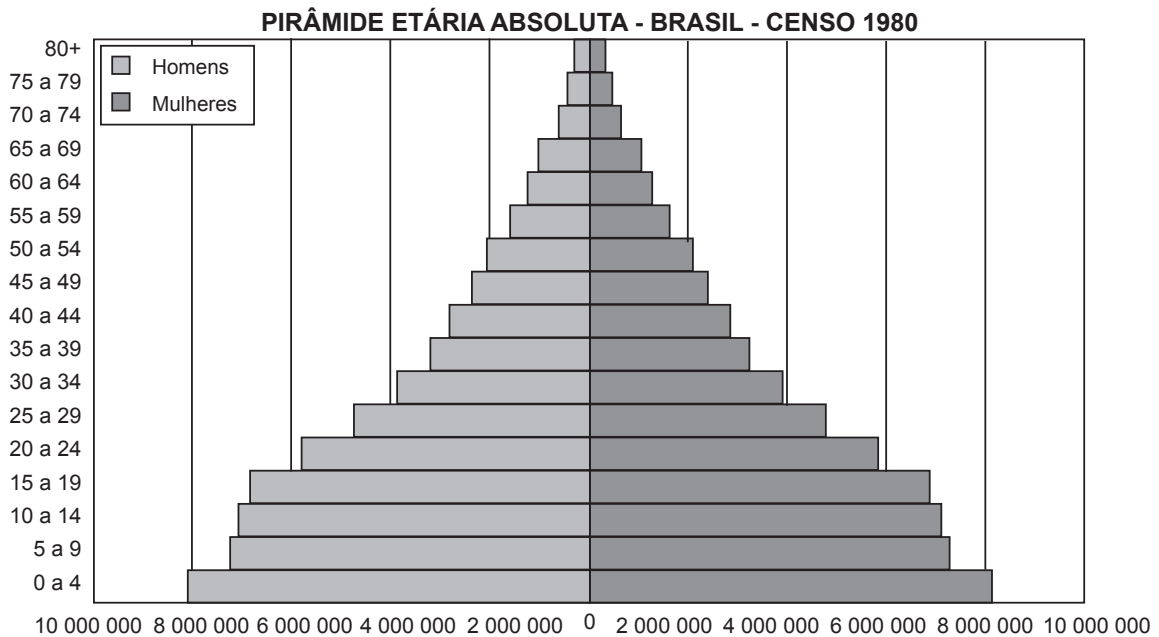
OLIVEIRA, L. G. **Conhecimento Prático Geografia**, n. 49, 2013.

O fator determinante para o movimento migratório descrito é a

- Ⓐ instabilidade política.
- Ⓑ recessão econômica.
- Ⓒ adversidade climática.
- Ⓓ degradação ambiental.



QUESTÃO 44



IBGE. Censo Demográfico - 1980. Disponível em: www.ibge.gov.br. Acesso em: 8 jul. 2015.

Uma transformação verificada entre a pirâmide demográfica de 1980 e a sua projeção para 2020 é a

- A** redução da mortalidade infantil.
- B** diminuição da taxa de natalidade.
- C** manutenção da população adulta.
- D** estabilização da expectativa de vida.

QUESTÃO 45

Nós nunca nos queixamos do tempo. Amamo-lo conforme vem, nunca corremos atrás dele, nunca pensamos em ajuntá-lo nem em parti-lo. Cada um de nós tem tempo em quantidade e nos contentamos com ele.

O homem branco (papalagi) nunca está satisfeito com o tempo que tem; e acusa o Grande Espírito por não lhe ter dado mais. Chega a blasfemar contra Deus, contra sua sabedoria. Divide o dia tal qual um homem partiria um coco mole com uma faca em pedaços cada vez menores. Todos os pedaços têm nome: segundo, minuto, hora.

SCHEURMANN, E. **O papalagi**. São Paulo: Marco Zero, 1920 (adaptado).

O chefe Tuiávii, habitante de uma ilha próxima à Austrália, explica que seu povo valoriza o tempo de uma forma diferente daquela da civilização ocidental, pois

- A** ajusta suas atividades ao tempo de que dispõe.
- B** revolta-se contra o controle divino do tempo disponível.
- C** preocupa-se em controlar rigidamente a passagem do tempo.
- D** reclama da escassez de tempo para ampliar suas atividades.

QUESTÃO 46



Disponível em: www1.folha.uol.com.br. Acesso em: 24 ago. 2013.

A charge demonstra a atual realidade do jornalismo impresso mundial, marcada pela

- A** falta de variedade no quadro de notícias voltadas ao público jovem.
- B** imprecisão das informações apuradas por agências de notícias mundiais.
- C** predominância dos meios digitais sobre plataformas tradicionais de informações.
- D** exploração sensacionalista de notícias cotidianas sem preocupação com os fatos.



QUESTÃO 47



GLASBERGEN, R. Disponível em: www.glasbergen.com. Acesso em: 15 ago. 2013.

A interação com a tecnologia satirizada na charge contribui para atuação de instituições educacionais sob o ponto de vista da

- A** difusão do acesso à informação.
- B** utilização de linguagens universais.
- C** manutenção de métodos e técnicas.
- D** padronização de aspectos culturais.

QUESTÃO 48

O crescente emprego de máquinas e a divisão do trabalho despojam o trabalho do operário de seu caráter autônomo. O produtor passa a ser um simples apêndice da máquina e só se requer dele a operação mais simples, mais monótona, mais fácil de aprender.

MARX, K.; ENGELS, F. Burgueses e proletários. In: FERNANDES, F. (Org.). **K. Marx, F. Engels:** História. São Paulo: Ática, 1989.

Comparado ao artesanal, o tipo de trabalho descrito no texto caracteriza-se pela

- A** flexibilização de jornadas e funções.
- B** conservação da lógica manufatureira.
- C** organização de sindicatos independentes.
- D** separação das atividades manuais e intelectuais.

QUESTÃO 49

Os arranjos produtivos locais são concentrações espaciais e setoriais de empresas, instituições e governos em torno de uma estrutura produtiva comum. Esses arranjos ganharam, hoje, posição de destaque na pauta de debate de empresários e governantes brasileiros.

Disponível em: <http://rae.fgv.br>. Acesso em: 20 ago. 2014 (adaptado).

A dinâmica espacial indicada no texto tem como função

- A** favorecer a competitividade comercial.
- B** promover a concentração urbana.
- C** estimular a organização sindical.
- D** deslocar o eixo viário.

QUESTÃO 50

Figura 1



Disponível em: www.portoferreirahoje.com.br. Acesso em: 26 ago. 2013.

Figura 2



Disponível em: www.agrocim.com.br. Acesso em: 25 ago. 2013.

A alteração da técnica produtiva ilustrada nas imagens exigiu do setor agrícola a

- A** valorização da agricultura familiar.
- B** fiscalização dos direitos trabalhistas.
- C** ampliação de trabalhadores no campo.
- D** qualificação da mão de obra empregada.



QUESTÃO 51

A Wikileaks é uma organização internacional, criada em 2006, que tem o propósito de divulgar vazamentos e submissões anônimas de documentos classificados como sigilosos. Seu alvo são políticos corruptos e instituições turvas. A estrutura da Wikileaks é amorfa e dinâmica. Não há uma sede, *staff* ou organograma. Sua base tecnológica está espalhada por servidores em diversos países, de forma a garantir a permanência no ar, mesmo diante de ameaças de governos e instituições poderosas. Seus colaboradores são um exército de anônimos.

WOOD JR., T. Segredos devassados. **Carta Capital**, jul. 2010 (adaptado).

Os sistemas de informações mundiais, articulados pelas novas tecnologias de comunicação, motivaram preocupações para muitos estados e corporações internacionais porque

- A** imagens de satélites tornaram-se instrumentos estratégicos das empresas.
- B** inovações derivadas dos *softwares* empresariais são de uso público e gratuito.
- C** *hackers* e ativistas podem invadir e disseminar os dados de governos e de empresas.
- D** estruturas de poder governamental independem cada vez mais do setor de tecnologia.

QUESTÃO 52

Negros vão à luta nos Estados Unidos

Em maio de 1961, numa transmissão de rádio dirigida ao estrangeiro, Robert Kennedy, ministro da Justiça norte-americana, afirmou que “os preconceitos raciais estão sendo derrubados nos estados, e talvez um negro se torne presidente da República nos próximos 30 ou 40 anos”. Com essa tirada de otimismo, o irmão do presidente Kennedy procurava apagar a péssima repercussão externa das violências racistas no Alabama. Dois anos depois, a situação racial nos Estados Unidos volta ao centro das atenções da opinião pública mundial, com cenas de violência ainda mais dramáticas.

Disponível em: <http://acervo.folha.com.br>. Acesso em: 28 ago. 2013.

Ainda que com pequeno atraso, a previsão do ministro dos EUA seria confirmada. Uma medida tomada pelo governo daquele país, que contribuiu para isso foi a

- A** adoção das ações afirmativas.
- B** redução da maioria penal.
- C** promoção da igualdade econômica.
- D** participação dos eleitores analfabetos.



QUESTÃO 53

A percepção do que é uma visão de gênero produziu grandes transformações na sociedade contemporânea. Sexo não é a mesma coisa que gênero, sexo se refere a diferenças biológicas entre homem e mulher, gênero se refere a diferenças produzidas socialmente entre sexos.

IBGE. Síntese de indicadores sociais: uma análise das condições de vida da população brasileira. **Estudos & Pesquisas**, n. 26, 2009 (adaptado).

O texto diferencia abordagens no estudo das relações entre homens e mulheres, indicando que o conceito de gênero se refere

- A** à moral tradicionalmente instituída.
- B** aos direitos igualmente distribuídos.
- C** à hierarquia biologicamente definida.
- D** às identidades culturalmente construídas.

QUESTÃO 54

O Conselho Nacional de Saúde é formado por 48 conselheiros titulares e seus respectivos primeiro e segundo suplentes, representantes de associações e movimentos sociais de usuários do Sistema Único de Saúde (SUS), entidades de profissionais de saúde, de prestadores de serviço e empresariais da área da saúde, comunidade científica e governo federal.

BRASIL. Ministério da Saúde. Disponível em: <http://conselho.saude.gov.br>. Acesso em: 30 ago. 2014.

A composição do órgão citado no texto atende a um princípio democrático ao

- A** consolidar o controle privado da gestão.
- B** assegurar a participação da sociedade civil.
- C** garantir a arrecadação de recursos tributários.
- D** favorecer o modelo empresarial de fiscalização.

QUESTÃO 55

Amartya Sen, 78 anos, cresceu em uma Índia imersa na ruína econômica. Filho de um professor universitário, conviveu com a miséria extrema, a sangrenta guerra separatista do Paquistão, o desmonte do Império Britânico e viu a fome matar pelo menos 3 milhões de pessoas em Bengala. Em 1998, ele recebeu o Nobel de Economia por sua formulação original sobre o desenvolvimento, processo que passou a ser visto como uma extensão das liberdades para trabalhar, consumir, dispor de saúde e educação de qualidade e expressar livremente os pensamentos. Graças a Sen, um dos criadores do Índice de Desenvolvimento Humano (IDH), o avanço dos países não é mais medido apenas pelo crescimento da economia.

Disponível em: <http://planetasustentavel.abril.com.br>. Acesso em: 10 set. 2014 (adaptado).

Uma consequência dessa nova abordagem sobre o desenvolvimento é a

- A** exploração das riquezas naturais.
- B** incorporação de novas tecnologias.
- C** formação de blocos supranacionais.
- D** reestruturação das políticas públicas.



QUESTÃO 56

Pelas águas do rio Reno, em algo mais que imaginação, passando sob pontes construídas pelos romanos e restauradas por heróis posteriores, passando por cidades e castelos cujos nomes soavam-me aos ouvidos como música, e cada uma das quais era tema de uma lenda, deixei-me levar por um encantamento como se me transportasse para uma época heroica, respirando uma atmosfera de cavalaria medieval.

SCOTT, F. J. A arte de embelezar o jardim das casas suburbanas. In: SCHAMA, S. **Paisagem e memória**. São Paulo: Cia. das Letras, 1996 (adaptado).

Os elementos da paisagem que foram marcantes na descrição apresentada estão relacionados ao(à)

- Ⓐ vivência urbana.
- Ⓑ relevo acidentado.
- Ⓒ patrimônio histórico.
- Ⓓ vegetação predominante.

QUESTÃO 57

O uso de biocombustíveis pode ter efeito positivo na redução das emissões de gases do efeito estufa no setor de transportes. Um benefício está na melhoria da eficiência dos veículos, para que apresentem um menor consumo de combustíveis e possam transportar um maior volume de bens e passageiros.

OLIVEIRA, G. S. **Mudanças climáticas**. Brasília: MEC; SEB; MCT; AEB, 2009 (adaptado).

A redução na emissão de gases prejudiciais ao planeta passa pela mudança na utilização dos meios de transporte. Assim, é possível substituir o transporte rodoviário, considerado o mais poluidor, pelo transporte

- Ⓐ aéreo, por apresentar a possibilidade de diminuir as distâncias, em virtude de sua rapidez e capacidade de carga.
- Ⓑ marítimo, já que possui a versatilidade de atingir, com eficiência, as regiões costeiras.
- Ⓒ fluvial, pela capacidade de circulação em rios urbanos de diferentes profundidades e formas de relevo.
- Ⓓ ferroviário, pois apresenta excelente relação custo x benefício, podendo inclusive ser usado nos grandes centros urbanos.

QUESTÃO 58

Comprados em 1997, os primeiros computadores populares funcionavam, em média, seis anos. Em 2005, já duravam cerca de um terço desse tempo. A tendência atual é a de serem substituídos ainda mais rapidamente. Esses objetos estão mais baratos e populares e, portanto, mais presentes na rotina da população.

ADEODATO, S. O lixo da era digital. **Horizonte geográfico**. São Paulo, n. 119, out. 2008 (adaptado).

A tendência de consumo descrita intensifica problemas relacionados à

- Ⓐ capacidade de aterros sanitários que acumulam produtos descartados.
- Ⓑ lucratividade de unidades fabris que produzem materiais biodegradáveis.
- Ⓒ produtividade em lojas comerciais que vendem equipamentos de informática.
- Ⓓ empregabilidade em centros de reciclagem que reutilizam componentes eletrônicos.

QUESTÃO 59

Na Avenida Paulista, cartão-postal da cidade de São Paulo, os termômetros indicam 30 graus Celsius às 15 horas. No mesmo dia, na mesma hora, no sul e no norte do município, onde se encontram as áreas rurais e de proteção dos mananciais, a temperatura é de 20 graus, 10 graus a menos que na zona central da cidade.

LOUREIRO, T. Disponível em: <http://abril.com.br>. Acesso em: 20 ago. 2013 (adaptado).

As diferenças descritas no texto observadas em um mesmo município derivam do seguinte fator componente da paisagem:

- Ⓐ Vazão dos rios.
- Ⓑ Grau de arborização.
- Ⓒ Declividade do relevo.
- Ⓓ Intensidade das chuvas.

QUESTÃO 60

Eutrofização é o processo de poluição da água em rios e lagos, que acabam adquirindo uma coloração turva, ficando com níveis baixíssimos de oxigênio dissolvido na água. Isso provoca a morte de diversas espécies animais e vegetais, e tem altíssimo impacto para os ecossistemas aquáticos.

Disponível em: <http://eco.ib.usp.br>. Acesso em: 27 set. 2013 (adaptado).

Para reduzir esse problema ambiental, uma ação que deve ser tomada pelos gestores públicos é

- Ⓐ coibir o uso de defensivos agrícolas.
- Ⓑ expandir a rede de tratamento de esgoto.
- Ⓒ combater a atuação da pesca predatória.
- Ⓓ intensificar a aplicação de flúor nos corpos hídricos.



en@ceja ²⁰¹⁸

Exame Nacional para Certificação de
Competências de Jovens e Adultos